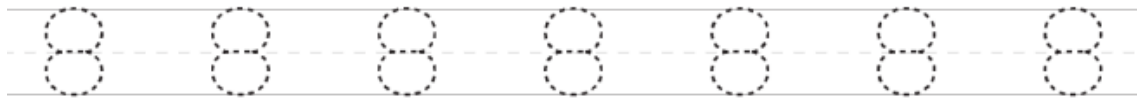





# Mis amigos los números

PRIMER GRADO

Delinea el trazo con tu lápiz. Recuerda hacerlo despacio, para su buena presentación.



Ahora, escribe los números propuestos en cada recuadro.



6	6	6	6	6
<input type="text"/>	<input type="text"/>	<input type="text"/>	<input type="text"/>	<input type="text"/>
<input type="text"/>	<input type="text"/>	<input type="text"/>	<input type="text"/>	<input type="text"/>

7	7	7	7	7
<input type="text"/>	<input type="text"/>	<input type="text"/>	<input type="text"/>	<input type="text"/>
<input type="text"/>	<input type="text"/>	<input type="text"/>	<input type="text"/>	<input type="text"/>

8	8	8	8	8
<input type="text"/>	<input type="text"/>	<input type="text"/>	<input type="text"/>	<input type="text"/>
<input type="text"/>	<input type="text"/>	<input type="text"/>	<input type="text"/>	<input type="text"/>

9	9	9	9	9
<input type="text"/>	<input type="text"/>	<input type="text"/>	<input type="text"/>	<input type="text"/>
<input type="text"/>	<input type="text"/>	<input type="text"/>	<input type="text"/>	<input type="text"/>

10	10	10	10	10
<input type="text"/> <input type="text"/>	<input type="text"/> <input type="text"/>	<input type="text"/> <input type="text"/>	<input type="text"/> <input type="text"/>	<input type="text"/> <input type="text"/>
<input type="text"/> <input type="text"/>	<input type="text"/> <input type="text"/>	<input type="text"/> <input type="text"/>	<input type="text"/> <input type="text"/>	<input type="text"/> <input type="text"/>



¡Lo Lograste!



# Ordenar números

Identifica **qué lista** de números, están correctamente ordenados de **menor a mayor**. COLOREA LAS LISTAS CORRECTAS.




A	3	6	7	8	10
---	---	---	---	---	----

B	1	4	3	9	10
---	---	---	---	---	----


C	3	6	9	5	10
---	---	---	---	---	----

D	4	5	8	9	10
---	---	---	---	---	----

Ahora, ordena los siguientes números del tornado numérico, de **menor a mayor**.



--	--	--	--	--



--	--	--	--	--