



Ficha de trabajo en casa

Tema: Los números naturales del 0 al 99.



1. Cuenta y completa los números que faltan.

0		2		4		6			9
10			13						
			23						
30		32			35				
						46			
50				54				58	
	61								
70					75				79
90			93						99

2. Ordena los números de menor a mayor.

10 _ 15 _ 14 _ 19 _ 13

--	--	--	--	--

38 _ 33 _ 31 _ 36 _ 37

--	--	--	--	--

3. Ordena los números de mayor a menor.

10 _ 15 _ 14 _ 19 _ 13

--	--	--	--	--

38 _ 33 _ 31 _ 36 _ 37

--	--	--	--	--

4. **Escribe** el nombre de los números.

12	Doce.	77	
45		65	Sesenta y cinco.
78		81	
50		99	
34		17	

5. **Completa** los espacios en blanco con los números que terminan en "5", puedes ayudarte del cuadro del ejercicio 1.

5									
---	--	--	--	--	--	--	--	--	--

6. Ahora, **escribe** todos los números que terminan en 8.

8									
---	--	--	--	--	--	--	--	--	--

7. **Piensa y responde:**

$5 + 5 = \square$

$6 + 6 = \square$

$7 + 7 = \square$

8. En la hoja siguiente encontrarás unos ejercicios en los que tendrás que **representar** cantidades utilizando puntos. Sigue estos ejemplos


5

●	●	●	●	●




3

●		●		
	●			



7


●	●	●	●	●
●	●			



Debes utilizar primero los casilleros de la fila superior y luego pasar a la fila inferior.



¡Ahora, hazlo tú solo!



9. Representa estas cantidades con puntos y luego responde:

6

9

¿Cuánto falta para llegar a 10?

¿Cuánto falta para llegar a 10?

15

18

¿Cuánto falta para llegar a 20?

¿Cuánto falta para llegar a 20?

37



¡Possumus!

¿Cuánto falta para llegar a 40?