



"Ficha de trabajo en casa"

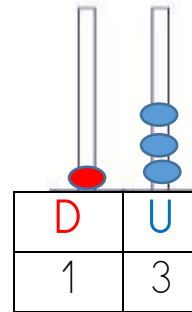
Tema : La decena

Es la agrupación de 10 unidades.



10 unidades = 1 D

Veamos la decena en el tablero de valor posicional T.V.P., representando el número 13.



Representación gráfica.

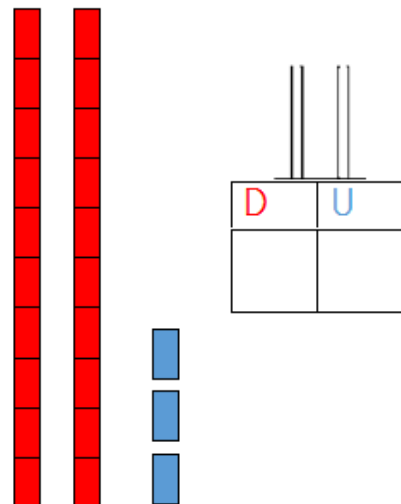
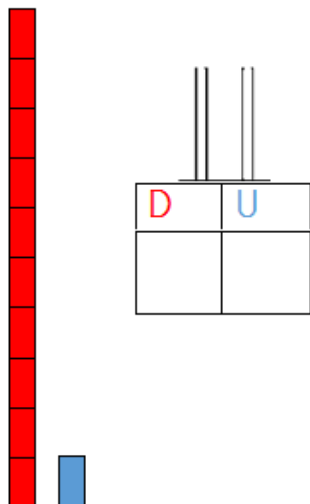
una decena



una unidad



1. Ahora, hazlo tú solo en el ábaco y en el TVP.



2. **Rodea** una decena y escribe cuántos elementos hay.



D	U



D	U




D	U

3. **Representa** gráficamente las siguientes cantidades. Observa el ejemplo.

34	
12	
56	
78	

4. **Asocia** las cantidades iguales de la columna izquierda con la columna de la derecha.

15		5 D 6U
56		7 D 8U
78		1 D 5U
34		8 D 9U
89		3 D 4U

5. **Asocia** las cantidades iguales de las tres columnas y coloréalas con un mismo color. Procura utilizar colores claros.

15	Quince	5 D 6U
56	Setenta y ocho	7 D 8U
78	Cincuenta y seis	1 D 5U
34	Ochenta y nueve	8 D 9U
89	Treinta y cuatro	3 D 4U

¡Possumus!