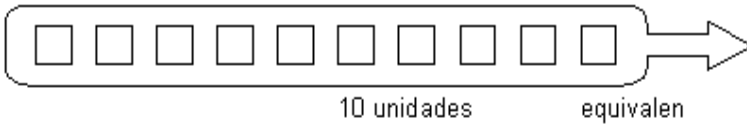


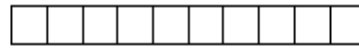


RECORDAMOS LA CENTENA

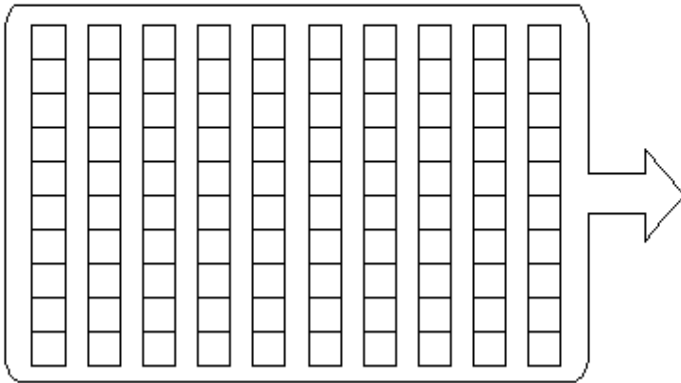
OBSERVA:




10 unidades equivalen



a 1 decena



10 decenas equivalen



a 1 centena



No olvides que...

10 decenas equivalen a 1 centena

100 unidades equivalen a 1 centena



C	D	U
1	0	0

Se lee: **cien**

✂ Codifica y escribe los números que correspondan en el T.V.P.

	<table border="1"><tr><td>C</td><td>D</td><td>U</td></tr><tr><td></td><td></td><td></td></tr></table>	C	D	U					<table border="1"><tr><td>C</td><td>D</td><td>U</td></tr><tr><td></td><td></td><td></td></tr></table>	C	D	U			
C	D	U													
C	D	U													
	<table border="1"><tr><td>C</td><td>D</td><td>U</td></tr><tr><td></td><td></td><td></td></tr></table>	C	D	U					<table border="1"><tr><td>C</td><td>D</td><td>U</td></tr><tr><td></td><td></td><td></td></tr></table>	C	D	U			
C	D	U													
C	D	U													
	<table border="1"><tr><td>C</td><td>D</td><td>U</td></tr><tr><td></td><td></td><td></td></tr></table>	C	D	U					<table border="1"><tr><td>C</td><td>D</td><td>U</td></tr><tr><td></td><td></td><td></td></tr></table>	C	D	U			
C	D	U													
C	D	U													



✂ Ahora decodifica y dibuja los cuadros necesarios para expresar cada cifra:

DECODIFICA:

C	D	U	→
1	2	6	

C	D	U	→
1	0	8	

C	D	U	→
1	8	3	

✂ ESCRIBE el número en el casillero en blanco.

Ciento cuatro	
Ciento treinta y dos	
Ciento noventa y uno	
Ciento veintitrés	
Ciento sesenta y cinco	
Ciento ochenta y cuatro	
Ciento sesenta y uno	
Ciento diez	
Ciento treinta y nueve	
Ciento setenta	

Ciento veintidós	
Ciento cincuenta y siete	
Ciento tres	
Ciento noventa y nueve	
Ciento cuarenta y ocho	
Ciento nueve	
Ciento dieciseis	
Ciento veintinueve	
Ciento ochenta y siete	
Ciento noventa y dos	

✂ ESCRIBE cómo se leen los siguientes números

368	
123	
496	
552	



✂ **COMPLETA** el cuadro

La descomposición:	Corresponde al número:	Se lee:
5 <u>C</u> + 7D + 2U	572	Quinientos setenta y dos.
9 ___ + 5D + 1U		
8 ___ + 0D + 3U		
6 ___ + 6D + 7U		
7 ___ + 2D + 0U		
	354	
	589	
	896	
		Seiscientos cincuenta y cuatro.
		Novecientos cincuenta.

✂ **ESCRIBE** el número inmediato anterior a:

_____ 200

_____ 349

_____ 572

_____ 316

_____ 408

_____ 389

_____ 145

_____ 500

_____ 784

✂ **ESCRIBE** el número inmediato posterior a:

400 _____

384 _____

548 _____

258 _____

269 _____

654 _____

409 _____

147 _____

123 _____

